


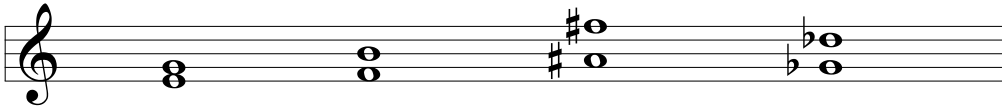
Harmonia 1

Itsearviointikysymykset (8/2015)


H1.1. Mitkä ovat näiden sävelten luontaiset purkautumissuunnat mainituissa sävellajeissa? (Ylös vai alas seuraavaan säveleen?)




H1.2. Mitkä ovat alla olevien intervallien käännökset?




H1.3. Löydätkö intervalleista ne, jotka viittaavat duuriin?




H1.4. Osaatko nimetä seuraavat intervallit?



H1.5. Montako erilaista kolmisointulaatua esimerkissä on?



H1.6. Monennessako käännöksessä alla oleva kolmisointu on?



H1.7. Kummassako esimerkissä kaikki sointumerkit on nuotinnettu oikein?



H1.8. Löydätkö alla olevista G-7b5 ja Db7 -soinnut?



H1.9. Löydätkö alla olevasta esimerkistä Ab-7 -soinnun ensimmäisen käännöksen?



H1.10. Kummassako esimerkissä kaikki sointumerkit on nuotinnettu oikein?

